









# Desafío matemático de junio

2do grado

Sus padres tienen que iniciar después de completar la actividad para cada día.



domingo	lunes	martes	mieroles	jueves	viernes	sabado
					1 Practique sus tarjetas de memoria durante 10 minutos. <input type="checkbox"/>	2 $29 + 57$ <input type="checkbox"/>
3 Imagine Math Facts, iReady Math, o tarjetas de memoria <input type="checkbox"/>	4 ¿Cuál es el valor del lugar de las decenas en 75? <input type="checkbox"/>	5 Practique sus tarjetas de memoria durante 10 minutos. <input type="checkbox"/>	6 Ben tiene 64 legos. Tom tiene 62. ¿Cuántos más tiene Ben? <input type="checkbox"/>	7 Practique sus tarjetas de memoria durante 10 minutos. <input type="checkbox"/>	8 $72 - 19$ <input type="checkbox"/>	9 10, 15, 20, ____, __, ____, ____, <input type="checkbox"/>
10 ¿Cuál es la diferencia entre 28 y 7? <input type="checkbox"/>	11 Practique sus tarjetas de memoria durante 10 minutos. <input type="checkbox"/>	12 ¿Cuál es el valor de 4 decenas? <input type="checkbox"/>	13 Imagine Math Facts, iReady Math, o tarjetas de memoria <input type="checkbox"/>	14 ¿Cuál es el valor?  <input type="checkbox"/>	15 Practique sus tarjetas de memoria durante 10 minutos. <input type="checkbox"/>	16 100 menos de 583 es igual a: <input type="checkbox"/>
17 Max tiene 19 cubos rojos, 24 cubos verdes y 27 cubos amarillos. ¿Cuántos tiene en total? <input type="checkbox"/>	18 $317 + 294$ <input type="checkbox"/>	19 Practique sus tarjetas de memoria durante 10 minutos. <input type="checkbox"/>	20 ¿Qué hora es?  <input type="checkbox"/>	21 Practique sus tarjetas de memoria durante 10 minutos. <input type="checkbox"/>	22 10 más que 836 es igual a: <input type="checkbox"/>	23 Imagine Math Facts, iReady Math, o tarjetas de memoria <input type="checkbox"/>
24 ¿Cuál es el valor?  <input type="checkbox"/>	25 Practique sus tarjetas de memoria durante 10 minutos. <input type="checkbox"/>	26 $34, 36, 38, \_\_\_\_$ $\_\_\_\_, \_\_\_\_, \_\_\_\_$ <input type="checkbox"/>	27 Imagine Math Facts, iReady Math, o tarjetas de memoria <input type="checkbox"/>	28 $633 - 229$ <input type="checkbox"/>	29 Practique sus tarjetas de memoria durante 10 minutos. <input type="checkbox"/>	30 ¿Cuál es la diferencia entre 92 y 45? <input type="checkbox"/>

Devuelva su calendario completado a su maestro/a en agosto para recibir puntos de la casa y ser entrado en un sorteo para los premios!









# Desafío matemático de julio

2do grado

Sus padres tienen que iniciar después de completar la actividad para cada día.



domingo	lunes	martes	mieroles	jueves	viernes	sabado
1 Imagine Math Facts, iReady Math, o tarjetas de memoria <input type="checkbox"/>	2 $95 - 48$ <input type="checkbox"/>	3 Practique sus tarjetas de memoria durante 10 minutos. <input type="checkbox"/>	4 ¿Qué hora es?  <input type="checkbox"/>	5 $<, >, =$ $327 \bigcirc 347$ <input type="checkbox"/>	6 Practique sus tarjetas de memoria durante 10 minutos. <input type="checkbox"/>	7 Sam leyó por 38 minutos, 42 minutos y 50 minutos esta semana. ¿Cuánto tiempo leyó? <input type="checkbox"/>
8 10 más que 194 es igual a: <input type="checkbox"/>	9 Escriba este número en forma ampliada: seiscientos noventa y cinco. <input type="checkbox"/>	10 Practique sus tarjetas de memoria durante 10 minutos. <input type="checkbox"/>	11 526 personas visitaron el acuario el lunes. 389 personas visitadas el martes. ¿Cuántos más fueron el lunes? <input type="checkbox"/>	12 Practique sus tarjetas de memoria durante 10 minutos. <input type="checkbox"/>	13 $309 + 188$ <input type="checkbox"/>	14 Imagine Math Facts, iReady Math, o tarjetas de memoria <input type="checkbox"/>
15 $147 + 65$ <input type="checkbox"/>	16 Practique sus tarjetas de memoria durante 10 minutos. <input type="checkbox"/>	17 800, 700, 600, _____, _____, _____ <input type="checkbox"/>	18 Imagine Math Facts,, o tarjetas de memoria <input type="checkbox"/>	19 ¿Cuál es el valor?  <input type="checkbox"/>	20 Practique sus tarjetas de memoria durante 10 minutos. <input type="checkbox"/>	21 Escriba este número en forma ampliada cuatrocientos setenta y uno <input type="checkbox"/>
22 Imagine Math Facts,, o tarjetas de memoria <input type="checkbox"/>	23 ¿Qué hora es?  <input type="checkbox"/>	24 Practique sus tarjetas de memoria durante 10 minutos. <input type="checkbox"/>	25 $572 - 192$ <input type="checkbox"/>	26 Practique sus tarjetas de memoria durante 10 minutos. <input type="checkbox"/>	27 100 más ochocientos diecinueve que es igual a: <input type="checkbox"/>	28 $<, >, =$ $928 \bigcirc 982$ <input type="checkbox"/>
29 ¿Cuál es el valor?  <input type="checkbox"/>	30 Practique sus tarjetas de memoria durante 10 minutos. <input type="checkbox"/>	31 $73 + 89$ <input type="checkbox"/>				

Devuelva su calendario completado a su maestro/a en agosto para recibir puntos de la casa y ser entrado en un sorteo para los premios!